

Adı:

Soyadı:

2. SINIF HAFTALIK DEĞERLENDİRME -10

1

1- "SAL" kelimesindeki harflerin alfabedeki sırası hangi seçenekte doğru verilmiştir?

- A) (22) (1) (14) B) (22) (1) (15) C) (23) (1) (15)

Yaşasın () Teyzem () dayım ve amcam bize gelecek ()

5) Yukarıdaki cümlede parantezle belirtilen yerlere sırasıyla hangi noktalama işaretleri konmalıdır?

- A) (,) (,) (.) B) (,) (,) (.) C) (,) (,) (!)

2- Aşağıdaki seçeneklerden hangisinde tüm kelimeler iki hecelidir?

- A) üye - katı - sandal
B) yeni - dert - asker
C) yurttaş - karpuz - oduncu

6) Aşağıdaki cümlelerden hangisinde zıt anlamlı kelimeler bir arada kullanılmıştır?

- A) Gece geç uyudu, sabah uyanamadı.
B) Az sonra çok kişi gelecek.
C) Ahmet geldi ama Ayşe gelmedi.

▲ → file ● → kasa ■ → fosil

3- Yukarıdaki kelimelerin sözlük sırasına göre sıralanışı hangi seçenekte doğru verilmiştir?

- A) ●, ■, ▲ B) ▲, ■, ● C) ■, ●, ▲

akra- ba	kal- abalık	kırk- ayak
tülü ü-	büm al-	at bay-

7) Yukarıdaki kelimelerden kaç tanesi satır sonunda doğru ayrılmıştır?

- A) 2 B) 3 C) 4

4- Aşağıdaki cümlelerdeki altı çizili kelimelerin hangisinin yazımında yanlışlık yapılmamıştır?

- A) Babam iyi bir şofördür.
B) Tiren istasyonuna gittik.
C) Herkez bizde toplandı.

8) Aşağıdaki verilen bilgilerden hangisi yanlıştır?

- A) İzlemediğimiz vakit televizyonu kapatmalıyız.
B) Kaynaklar hiçbir zaman tükenmez
C) Kaynakları kullanırken bilinçli olmalıyız.

Adı:

Soyadı:

2. SINIF HAFTALIK DEĞERLENDİRME-10

2

1) 12'den başlayarak dörder ritmik sayarken 2. ve 4. saymada söylediğimiz sayıların toplamı kaçtır?

- A) 30 B) 40 C) 44

5) Yandaki zihinden toplama işlemi tablosunda ▲ ve ★ yerine gelecek sayıların farkı kaçtır?

+	40	50
20	★	
30		▲

- A) 20 B) 30 C) 40

2) Aşağıdaki örüntülerden hangisinde hata yapılmıştır?




- A) 3 - 5 - 7 - 9 - 11 - 13
B) 5 - 8 - 11 - 15 - 17 - 20
C) 30 - 27 - 24 - 21 - 18

6) 4 birlik, 3 onluktan oluşan sayının 2 düzine fazlası kaç olur?

- A) 50 B) 58 C) 67

53	59	65
67	62	55

3) Yukarıdaki sayılardan 60'a yuvarlananları boyarsak hangi seçenek doğru olur?

- A)  B)  C) 

$$34 + 18 =$$

7) Yukarıdaki işlemin gerçek sonucu ile tahmini sonucu arasındaki fark kaçtır?

- A) 4 B) 3 C) 2

4) Aşağıdaki toplama işlemlerinden hangisinin sonucu en büyüktür?

- A) $\begin{array}{r} 28 \\ +14 \\ \hline \end{array}$ B) $\begin{array}{r} 25 \\ +16 \\ \hline \end{array}$ C) $\begin{array}{r} 35 \\ +9 \\ \hline \end{array}$

8) Ali'nin yaşı iki basamaklı en küçük sayıya eşittir. Ablası ise Ali'den 12 yaş büyüktür. İkisinin yaşları toplamı kaçtır?

- A) 22 B) 26 C) 32